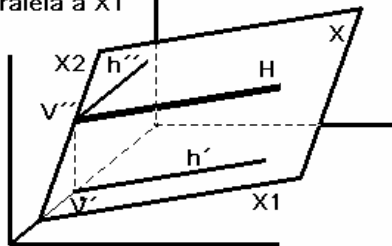


DIÉDRICO. 1º DE BACHILLERATO. RECTAS NOTABLES DEL PLANO. 17-FEBRERO-11

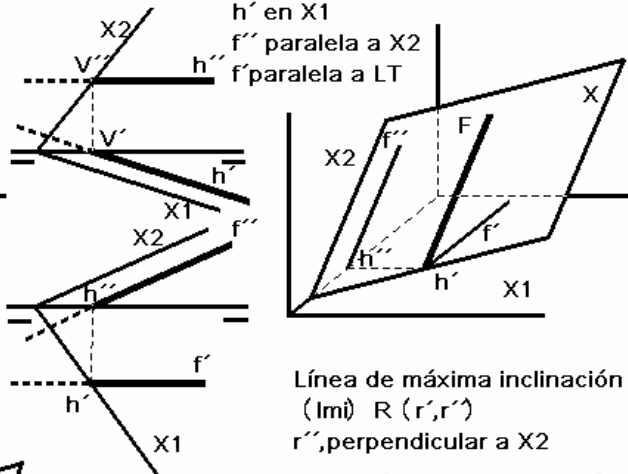
Recta horizontal de plano. H ( $h', h''$ )

$V''$  en X2  
 $h''$  paralela a LT  
 $h'$  paralela a X1



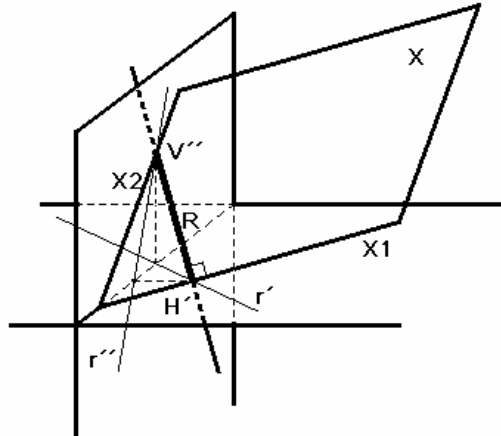
Recta frontal de plano. F ( $f', f''$ )

$h'$  en X1  
 $f''$  paralela a X2  
 $f'$  paralela a LT



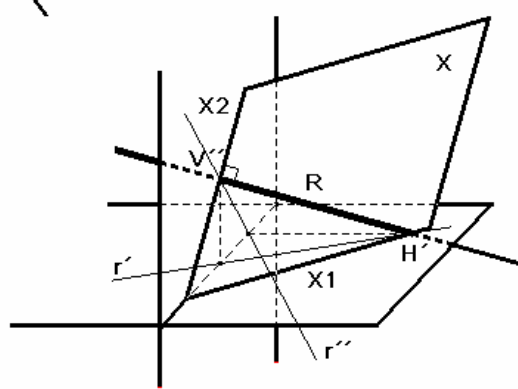
Línea de máxima pendiente (Imp) R ( $r', r''$ )

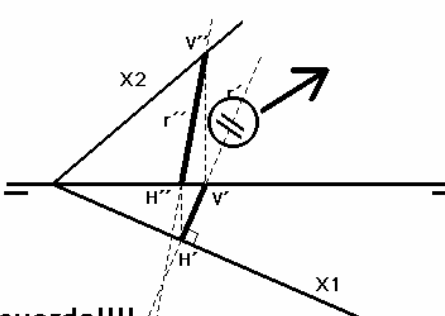
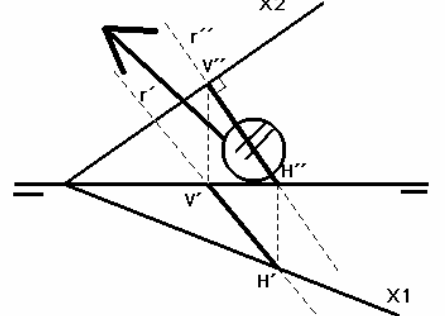
$r''$  perpendicular a X1



Línea de máxima inclinación (Imi) R ( $r', r''$ )

$r''$  perpendicular a X2



**!!!!Recuerda!!!!**

**Imp y Imi siempre se marcan con dos trazos en la proyección perpendicular**  
 Debes trazar la proyección  $r'$  o  $r''$  en cada caso, perpendicular a la traza del plano correspondiente.