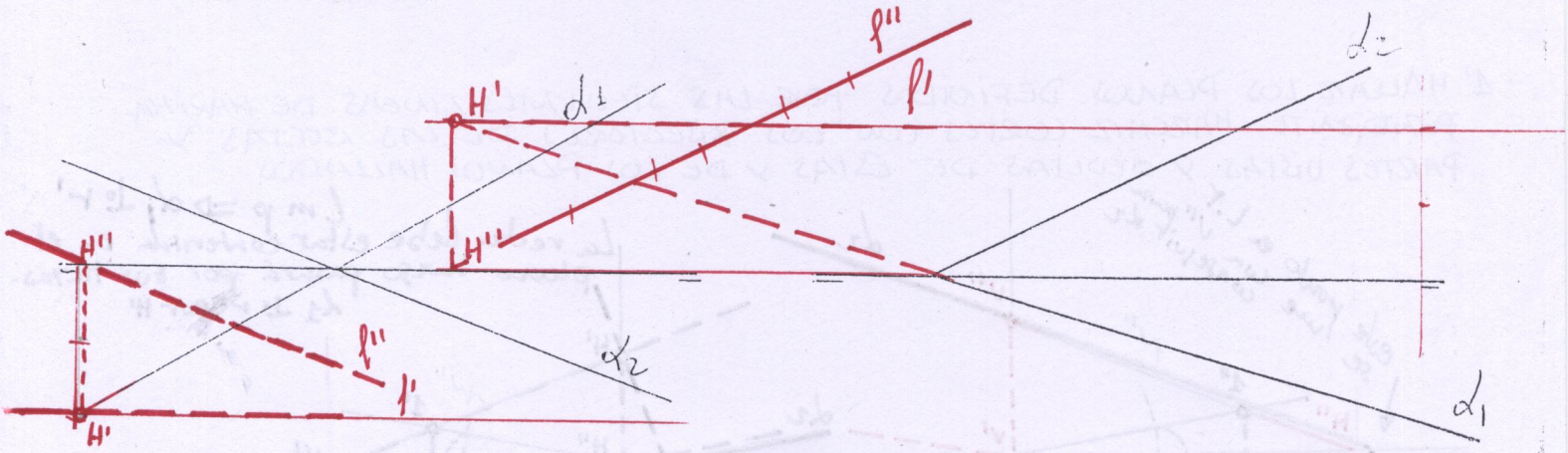


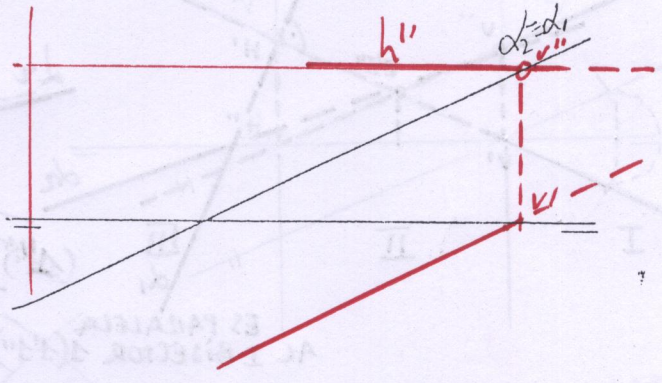
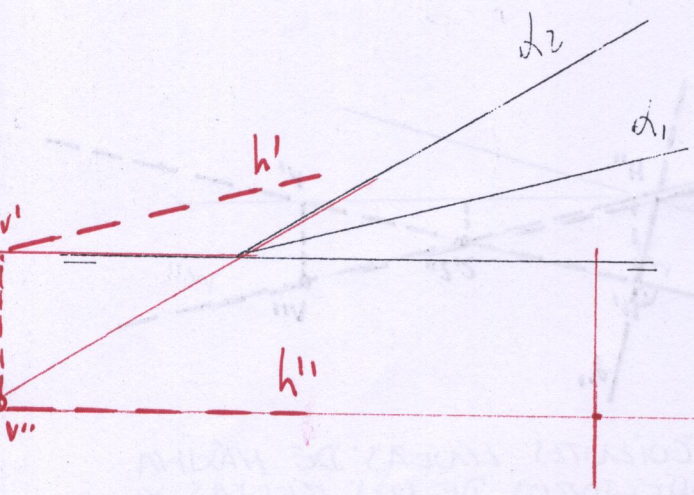
9b 3° HALLAR LAS TRAZAS Y PROYECCIONES DE UNA RECTA FRONTAL DEL PLANO α , DE ALEJAMIENTO 20 mm.

4° HALLAR LAS TRAZAS Y PROYECCIONES DE UNA FRONTAL DEL PLANO α , DE ALEJAMIENTO -20 mm.



4° TRAZAR UNA HORIZONTAL DEL PLANO α QUE TENGA -20 mm DE COTA.

5° TRAZAR UNA HORIZONTAL DEL PLANO α QUE TENGA 20 mm DE COTA.



6° HALLAR LA TRAZA VERTICAL DEL PLANO α , DEFINIDO POR LA LINEA DE MÁXIMA PENDIENTE QUE PASA POR EL PUNTO A.

7° HALLAR LA TRAZA HORIZONTAL DEL PLANO α , DEFINIDO POR LA LINEA DE MÁXIMA INCLINACIÓN QUE PASA POR A.

